
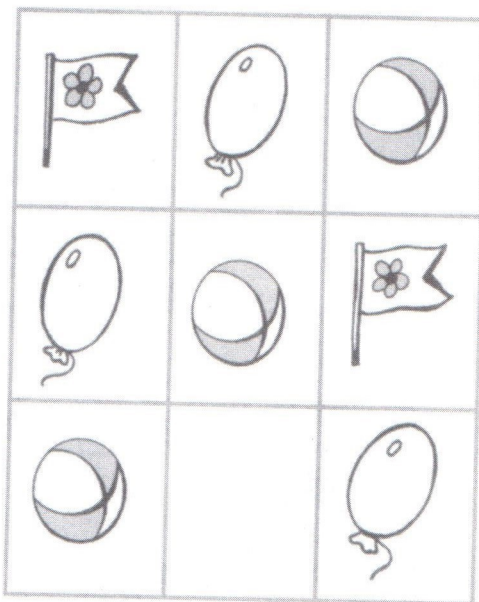



4. Zamysli se, které předměty asi chybí v prázdných
 rámečcích, vysvětli proč a dokresli je.



matematika

rozvoj řeči

pozornost

paměť

myšlení
testy

drobná
motorika

základy
čtení

okolní svět

- Dítě samostatně a rychle vyřešilo úlohu.
- Dítě se dopustilo 1–2 chyb.
- Dítě se dopustilo 3–4 chyb.

